

مرجع تخصصی ریاضیات متوسطه اول (هفتم هشتم نهم)

گام به گام نهم

گام به گام هشتم

گام به گام هفتم

کلیپ های آموزشی نهم

کلیپ های آموزشی هشتم

کلیپ های آموزشی هفتم

نمونه سوالات نهم

نمونه سوالات هشتم

نمونه سوالات هفتم

جزوه و درسامه نهم

جزوه و درسامه هشتم

جزوه و درسامه هفتم

درنامه و نکات کلیدی

مسعود زیر کاری

فصل پنجم

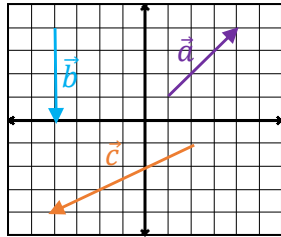
(بردار و مختصات)

پایه هشتم

ناحیه یک زاهدان

بردار: خط راست جهت داری است. برای نام گذاری بردار از دو حرف بزرگ انگلیسی یا یک حرف کوچک انگلیسی استفاده می شود.

مختصات بردار: برای به دست آوردن مختصات یک بردار از ابتدا طول (جهت افقی) سپس عرض (جهت عمودی) را به دست می آوریم.



مثال: مختصات بردارهای زیر را بنویسید.

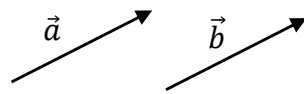
$$\vec{a} = \begin{bmatrix} 3 \\ 3 \end{bmatrix}$$

$$\vec{b} = \begin{bmatrix} 0 \\ -4 \end{bmatrix}$$

$$\vec{c} = \begin{bmatrix} -4 \\ -3 \end{bmatrix}$$

دو بردار مساوی (هم سنگ): دو بردار در صورتی مساویند که: هم جهت و هم اندازه و موازی (هم راستا) باشند.

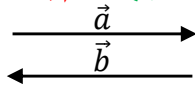
@riaziat789



$$\vec{a} = \vec{b}$$

مانند:

دو بردار قرینه: دو بردار در صورتی قرینه هم هستند که: هم اندازه و موازی ولی خلاف جهت هم باشند.



$$\vec{a} + \vec{b} = \vec{0}$$

مانند:

نکته: حاصل جمع هر بردار با قرینه اش برابر با بردار صفر است:

$$\begin{bmatrix} x \\ y \end{bmatrix} + \begin{bmatrix} z \\ t \end{bmatrix} = \begin{bmatrix} x+z \\ y+t \end{bmatrix}$$

جمع مختصاتی بردارها: عددهای طول با طول و عددهای عرض با عرض جمع می شوند:

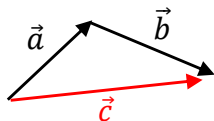
$$\begin{bmatrix} 4 \\ -6 \end{bmatrix} + \begin{bmatrix} 3 \\ 2 \end{bmatrix} + \begin{bmatrix} -8 \\ -5 \end{bmatrix} = \begin{bmatrix} 4+3-8 \\ -6+2-5 \end{bmatrix} = \begin{bmatrix} -1 \\ -9 \end{bmatrix}$$

مثال: حاصل مختصات مقابل را به دست آورید.

جمع بردارها (برآیند بردارها): برای جمع دو بردار از دو روش استفاده می شود:

(۱) روش مثلثی: اگر دو بردار پشت سر هم باشند از این روش استفاده می شود و در این روش برای برآیند بردارها از ابتدا بردار اولی

به انتها بردار دومی رسم می شود.



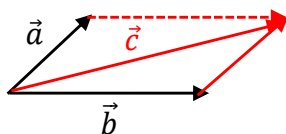
$$\vec{a} + \vec{b} = \vec{c}$$

مانند: تساوی جبری

مانند:

(۲) روش متوازی الاضلاع: اگر دو بردار پشت سر هم نباشند از انتهای یکی از دو بردار مساوی بردار بعدی رسم کرده تا دو بردار

پشت سرهم شوند و در آخر از ابتدا دو بردار به انتهای بردار جدید رسم می کنیم. (قطر متوازی الاضلاع بردار برآیند است)



$$\vec{a} + \vec{b} = \vec{c}$$

مانند: تساوی جبری

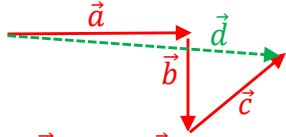
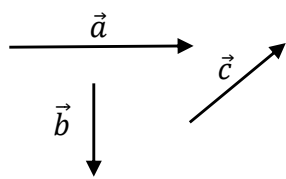
مانند:

پایه هشتم
ناحیه یک زاهدان

فصل پنجم
(بردار و مختصات)

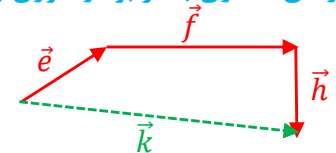
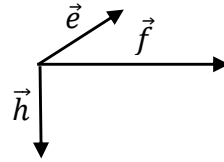
درسنامه و نکات کلیدی
مسعود زیرکاری

مثال: حاصل جمع بردارهای زیر را رسم کنید.



تساوی جبری: $\vec{a} + \vec{b} + \vec{c} = \vec{d}$

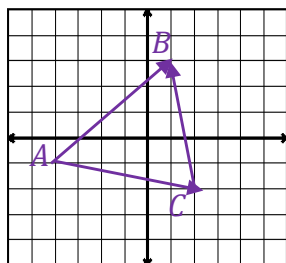
(بردارهای مساوی با هر بردار طوری رسم می کنیم که بردارها پشت سرهم باشند):



تساوی جبری: $\vec{e} + \vec{f} + \vec{h} = \vec{k}$

مثال: برای شکل زیر یک جمع برداری و یک جمع مختصاتی بنویسید.

(در شکل دو بردار را طوری مشخص می کنیم که پشت سرهم باشند)



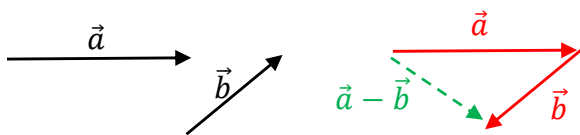
جمع برداری: $\vec{AC} + \vec{CB} = \vec{AB}$

جمع مختصاتی: $\begin{bmatrix} 6 \\ -1 \end{bmatrix} + \begin{bmatrix} -1 \\ 5 \end{bmatrix} = \begin{bmatrix} 5 \\ 4 \end{bmatrix}$

@riaziat789

تفریق دو بردار: اگر بردار اول را با قرینه ی بردار دوم جمع کنیم، تفریق دو بردار حاصل می شود: $\vec{a} - \vec{b} = \vec{a} + (-\vec{b})$

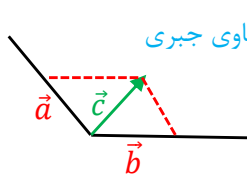
نکته: در روش هندسی تفریق دو بردار، می توان قرینه ی بردار دومی را پشت سر بردار اولی رسم کرد.



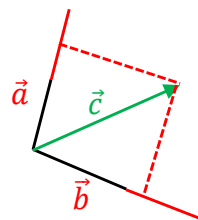
مثال: با توجه به بردارهای داده شده، بردار $\vec{a} - \vec{b}$ را رسم کنید.

(از انتهای بردار \vec{a} قرینه ی بردار \vec{b} را رسم می کنیم)

تجزیه بردارها: اگر بردار حاصل جمع را داشته باشیم از انتها آن بردار به موازات دو محور رسم کرده هر جا محور یا امتداد محور را قطع کرد انتهای دو بردار به دست می آید.



تساوی جبری: $\vec{a} + \vec{b} = \vec{c}$



مثال: بردار \vec{c} را در امتداد های رسم شده تجزیه کنید.

تساوی جبری: $\vec{a} + \vec{b} = \vec{c}$

$k \times \begin{bmatrix} x \\ y \end{bmatrix} = \begin{bmatrix} kx \\ ky \end{bmatrix}$

ضرب عدد در بردار: در ضرب عدد در بردار آن عدد هم در طول و هم در عرض ضرب می شود:

مثال: حاصل عبارت های زیر را به دست آورید.

$-5 \begin{bmatrix} 3 \\ 2 \end{bmatrix} = \begin{bmatrix} -15 \\ -10 \end{bmatrix}$

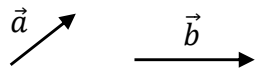
$2 \begin{bmatrix} 4 \\ -1 \end{bmatrix} - 3 \begin{bmatrix} 1 \\ -4 \end{bmatrix} = \begin{bmatrix} 8 \\ -2 \end{bmatrix} + \begin{bmatrix} -3 \\ 12 \end{bmatrix} = \begin{bmatrix} 5 \\ 10 \end{bmatrix}$

مثال: اگر $\vec{a} = \begin{bmatrix} 2 \\ 3 \end{bmatrix}$ و $\vec{b} = \begin{bmatrix} -1 \\ 4 \end{bmatrix}$ باشد. مختصات بردار $\vec{c} = 2\vec{a} - \vec{b}$ را به دست آورید.

$\vec{c} = 2 \begin{bmatrix} 2 \\ 3 \end{bmatrix} - \begin{bmatrix} -1 \\ 4 \end{bmatrix} = \begin{bmatrix} 4 \\ 6 \end{bmatrix} + \begin{bmatrix} 1 \\ -4 \end{bmatrix} = \begin{bmatrix} 5 \\ 2 \end{bmatrix}$

پایه هشتم

ناحیه یک زاهدان



نماد موازی بودن

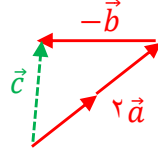
$$\vec{a} \parallel \vec{b} \Rightarrow \frac{x}{z} = \frac{y}{t} \quad \text{یا} \quad \frac{x}{y} = \frac{z}{t}$$

نماد عمود بودن

$$\vec{a} \perp \vec{b} \Rightarrow xz + yt = 0$$

فصل پنجم

(بردار و مختصات)



$$\vec{c} = 2\vec{a} - \vec{b}$$

نکته: دو بردار $\vec{a} = \begin{bmatrix} x \\ y \end{bmatrix}$ و $\vec{b} = \begin{bmatrix} z \\ t \end{bmatrix}$ در صورتی موازی هستند که:

مثال: دو بردار $\vec{a} = \begin{bmatrix} 2 \\ 5 \end{bmatrix}$ و $\vec{b} = \begin{bmatrix} -8 \\ x \end{bmatrix}$ موازیند. مقدار x را به دست آورید.

$$\vec{a} \parallel \vec{b} \Rightarrow \frac{2}{-8} = \frac{5}{x} \Rightarrow x = \frac{5 \times -8}{2} = -20$$

نکته: دو بردار $\vec{a} = \begin{bmatrix} x \\ y \end{bmatrix}$ و $\vec{b} = \begin{bmatrix} z \\ t \end{bmatrix}$ در صورتی بر هم عمود هستند که:

مثال: دو بردار $\vec{a} = \begin{bmatrix} -4 \\ y \end{bmatrix}$ و $\vec{b} = \begin{bmatrix} 6 \\ 3 \end{bmatrix}$ بر هم عمود هستند. مقدار y را به دست آورید.

$$\vec{a} \perp \vec{b} \Rightarrow -4 \times 6 = y \times 3 \Rightarrow 3y = -24 \Rightarrow y = -8$$

معادله مختصاتی: برای حل معادلات مختصاتی همانند معادلات معمولی عمل می کنیم:

(۱) مجهول ها در سمت چپ و مختصات ها را به سمت راست منتقل می کنیم.

(۲) حاصل مجهول ها و مختصات ها را به دست می آوریم.

(۳) طول و عرض مختصات را بر ضریب مجهول تقسیم می کنیم.

نکته: در حل معادله مختصاتی عدد های معلوم یا مجهول از یک طرف تساوی به طرف دیگر منتقل شود علامت آن ها **قرینه** می شود.

مثال: معادلات مختصاتی زیر را حل کنید.

$$\begin{aligned} 5\vec{x} = \begin{bmatrix} -5 \\ 10 \end{bmatrix} &\Rightarrow \vec{x} = \begin{bmatrix} -5 \div 5 \\ 10 \div 5 \end{bmatrix} = \begin{bmatrix} -1 \\ 2 \end{bmatrix} & \quad \begin{bmatrix} -3 \\ 2 \end{bmatrix} - 2\vec{x} = \begin{bmatrix} 5 \\ 6 \end{bmatrix} \Rightarrow -2\vec{x} = \begin{bmatrix} 5 \\ 6 \end{bmatrix} + \begin{bmatrix} 3 \\ -2 \end{bmatrix} = \begin{bmatrix} 8 \\ 4 \end{bmatrix} \\ & & \quad \vec{x} = \begin{bmatrix} 8 \div -2 \\ 4 \div -2 \end{bmatrix} = \begin{bmatrix} -4 \\ -2 \end{bmatrix} \end{aligned}$$

$$3\vec{x} + \begin{bmatrix} 2 \\ -3 \end{bmatrix} = \begin{bmatrix} -3 \\ -4 \end{bmatrix} + 2\vec{x} \Rightarrow \cancel{3\vec{x}} - 2\vec{x} = \begin{bmatrix} -3 \\ -4 \end{bmatrix} + \begin{bmatrix} -2 \\ 3 \end{bmatrix} = \begin{bmatrix} -5 \\ -1 \end{bmatrix} \Rightarrow \vec{x} = \begin{bmatrix} -5 \\ -1 \end{bmatrix}$$

بردارهای واحد مختصات: به دو بردار $\vec{i} = \begin{bmatrix} 1 \\ 0 \end{bmatrix}$ (واحد طول) و $\vec{j} = \begin{bmatrix} 0 \\ 1 \end{bmatrix}$ (واحد عرض) بردارهای واحد مختصات می گویند.

نکته: برای تبدیل یک بردار به برادر واحد مختصات کافی است عدد طول مختصات را ضریب \vec{i} و عدد عرض مختصات را ضریب \vec{j} قرار

دهیم.

@riaziat789

درسنامه و نکات کلیدی

مسعود زیر کاری

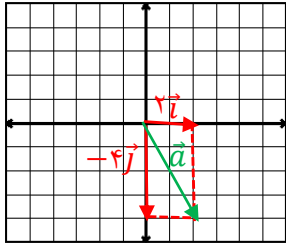
مثال: بردارهای زیر را بر حسب \vec{i} و \vec{j} بنویسید.

$$\vec{c} = \begin{bmatrix} 4 \\ 0 \end{bmatrix} = 4\vec{i}$$

$$\vec{b} = \begin{bmatrix} 0 \\ -5 \end{bmatrix} = -5\vec{j}$$

$$\vec{a} = \begin{bmatrix} -3 \\ 2 \end{bmatrix} = -3\vec{i} + 2\vec{j}$$

مثال: مختصات بردار $\vec{a} = 2\vec{i} - 4\vec{j}$ را نوشته سپس بردار \vec{a} را در دستگاه مختصات رسم کنید.



$$\vec{a} = 2\vec{i} - 4\vec{j} = \begin{bmatrix} 2 \\ -4 \end{bmatrix}$$

مثال: اگر $\vec{a} = 3\vec{i} - 2\vec{j}$ و $\vec{b} = \vec{i} + 2\vec{j}$ باشد. مختصات بردار $\vec{c} = \vec{a} - 3\vec{b}$ را بنویسید.

$$\vec{a} = 3\vec{i} - 2\vec{j} = \begin{bmatrix} 3 \\ -2 \end{bmatrix}$$

$$\vec{c} = \vec{a} - 3\vec{b} = \begin{bmatrix} 3 \\ -2 \end{bmatrix} - 3 \begin{bmatrix} 1 \\ 2 \end{bmatrix} = \begin{bmatrix} 3 \\ -2 \end{bmatrix} + \begin{bmatrix} -3 \\ -6 \end{bmatrix} = \begin{bmatrix} 0 \\ -8 \end{bmatrix}$$

$$\vec{b} = \vec{i} + 2\vec{j} = \begin{bmatrix} 1 \\ 2 \end{bmatrix}$$

مثال: معادلات مختصاتی زیر را حل کنید.

$$2\vec{x} + \begin{bmatrix} 2 \\ -3 \end{bmatrix} = 3\vec{i} - \vec{j} \Rightarrow 2\vec{x} = \begin{bmatrix} 3 \\ -1 \end{bmatrix} + \begin{bmatrix} -2 \\ 3 \end{bmatrix} = \begin{bmatrix} 1 \\ 2 \end{bmatrix} \Rightarrow \vec{x} = \begin{bmatrix} 1 \div 2 \\ 2 \div 2 \end{bmatrix} = \begin{bmatrix} 1/2 \\ 1 \end{bmatrix}$$

$$\vec{x} + 3\vec{i} = 2\vec{x} - 3 \begin{bmatrix} 1 \\ -2 \end{bmatrix} \Rightarrow \vec{x} - 2\vec{x} = \begin{bmatrix} -3 \\ 6 \end{bmatrix} + \begin{bmatrix} -3 \\ 6 \end{bmatrix} = \begin{bmatrix} -6 \\ 6 \end{bmatrix} \Rightarrow \vec{x} = \begin{bmatrix} -6 \div -1 \\ 6 \div -1 \end{bmatrix} = \begin{bmatrix} 6 \\ -6 \end{bmatrix}$$

@riaziat789

ریاضیات هفتم ، هشتم ، نهم